

Évaluations de début d'année

# Mathématiques

Dispositif Ulis

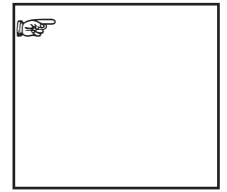


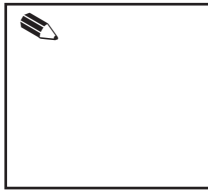
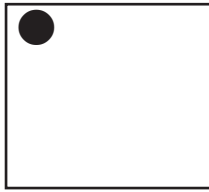

Niveau CI

Nom : .....

Année : .....



1 - Écris les nombres dictés :



2 - Colle le nombre de gommettes demandé :

1

5

2

0

3

10

3 - Compte les éléments et écris le nombre qui correspond :



4 - Dessine le nombre de ronds demandé



2

|  |
|--|
|  |
|--|

4

|  |
|--|
|  |
|--|

9

|  |
|--|
|  |
|--|

5 - Complète les suites des nombres

Remplis les cases blanches :

|  |   |   |   |  |  |  |  |  |  |  |
|--|---|---|---|--|--|--|--|--|--|--|
|  | 1 | 2 | 3 |  |  |  |  |  |  |  |
|--|---|---|---|--|--|--|--|--|--|--|

|  |  |  |   |   |   |   |  |  |  |  |
|--|--|--|---|---|---|---|--|--|--|--|
|  |  |  | 3 | 4 | 5 | 6 |  |  |  |  |
|--|--|--|---|---|---|---|--|--|--|--|

Remplis seulement les cases blanches :

|  |   |   |   |  |  |  |  |  |  |  |
|--|---|---|---|--|--|--|--|--|--|--|
|  | 0 | 1 | 2 |  |  |  |  |  |  |  |
|--|---|---|---|--|--|--|--|--|--|--|

---

|  |   |   |   |  |  |  |  |  |  |  |
|--|---|---|---|--|--|--|--|--|--|--|
|  | 5 | 6 | 7 |  |  |  |  |  |  |  |
|--|---|---|---|--|--|--|--|--|--|--|

---

|  |  |  |  |  |   |   |    |  |  |  |
|--|--|--|--|--|---|---|----|--|--|--|
|  |  |  |  |  | 8 | 9 | 10 |  |  |  |
|--|--|--|--|--|---|---|----|--|--|--|

---

|  |  |  |    |    |    |  |  |  |  |  |
|--|--|--|----|----|----|--|--|--|--|--|
|  |  |  | 15 | 16 | 17 |  |  |  |  |  |
|--|--|--|----|----|----|--|--|--|--|--|

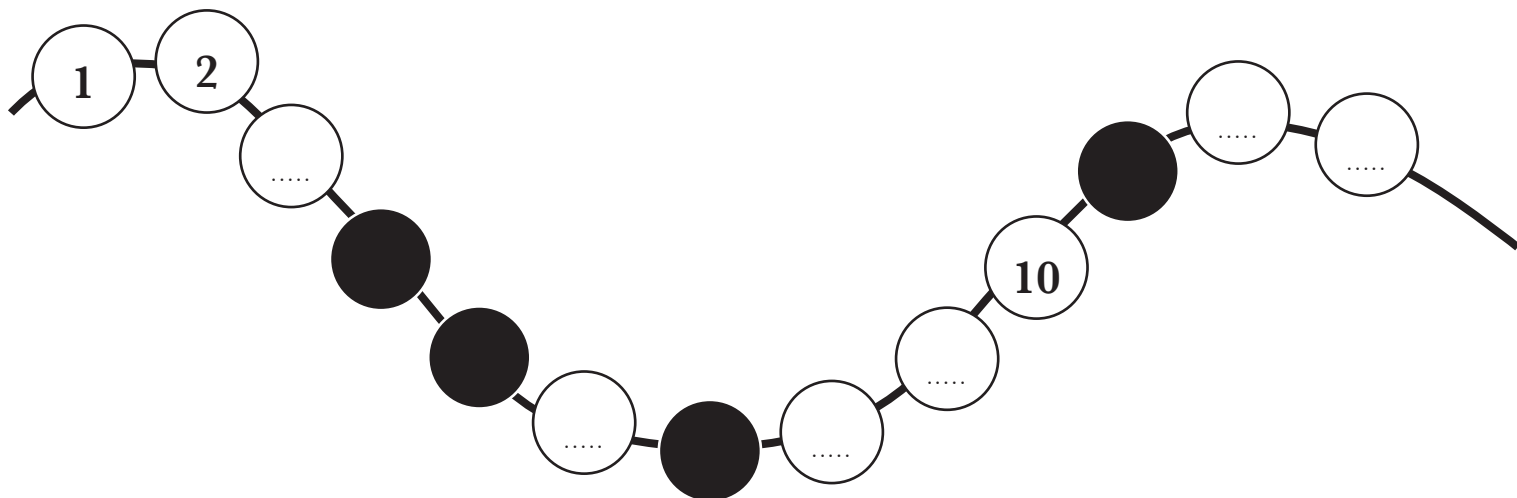
---

|  |  |    |    |  |  |  |  |  |  |  |
|--|--|----|----|--|--|--|--|--|--|--|
|  |  | 12 | 13 |  |  |  |  |  |  |  |
|--|--|----|----|--|--|--|--|--|--|--|

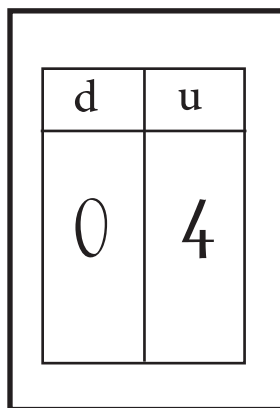

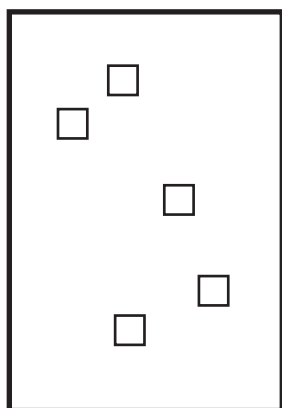
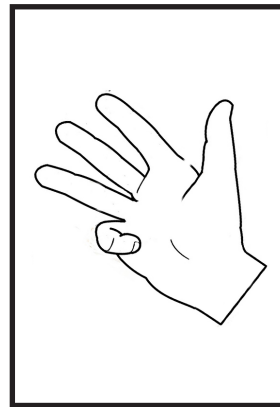

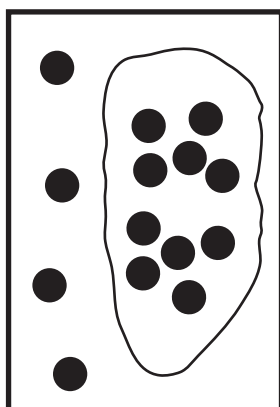

---

|  |  |  |  |  |    |  |    |  |  |  |
|--|--|--|--|--|----|--|----|--|--|--|
|  |  |  |  |  | 21 |  | 23 |  |  |  |
|--|--|--|--|--|----|--|----|--|--|--|

Remplis seulement les cases blanches :



6 - Colorie les étiquettes du **nombre 4** :



7 - Entoure le nombre dicté :



4

2

8

3

1



3

9

5

6

3



8

14

12

11

10



14

10

12

11

15



18

8

16

10

19



19

18

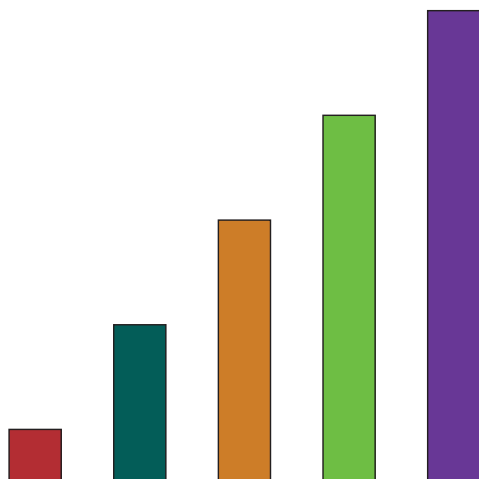
11

9


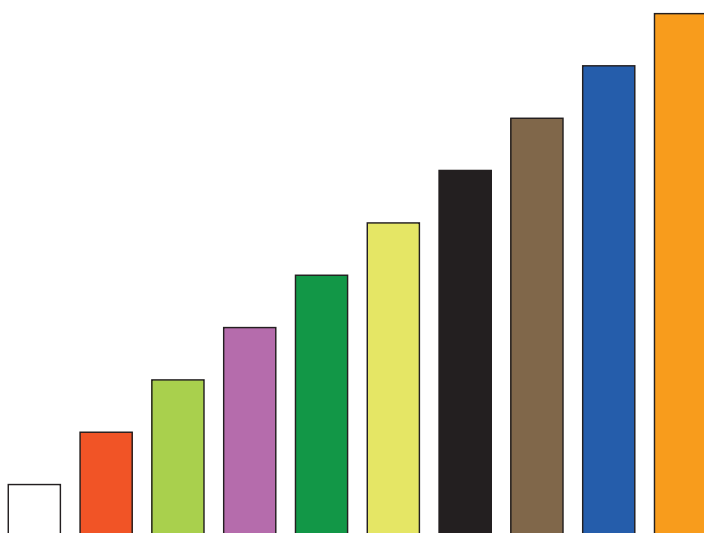
20

## 8 - Classe les éléments du plus petit au plus grand :

Activités réalisées avec du matériel de manipulation (sans modèle)



Photos du travail réalisé :





9 - Colorie le nombre le plus grand :



1

4

---



5

0

---



8

1

---



4

14

---



20

19

---



23

32

10 - Entoure le nombre le plus petit :



1

8

---



5

0

---



2

4

---



15

5

---



14

10

---



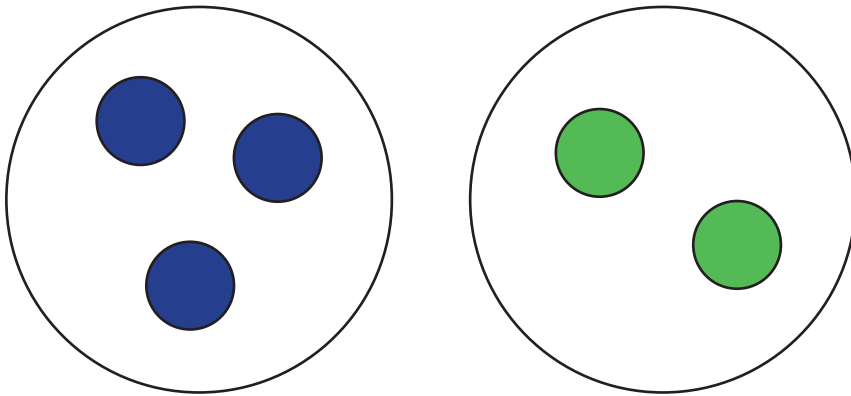
19

29

## 11 - Situations additives et soustractives :

Écris l'opération qui convient :

Combien y a-t-il d'éléments en tout ?



+

=

.....




+

=

.....

Regarde le dessin, dessine la situation de départ, puis écris l'opération qui convient :



Combien reste t-il d'éléments à la fin ?



—

=

.....

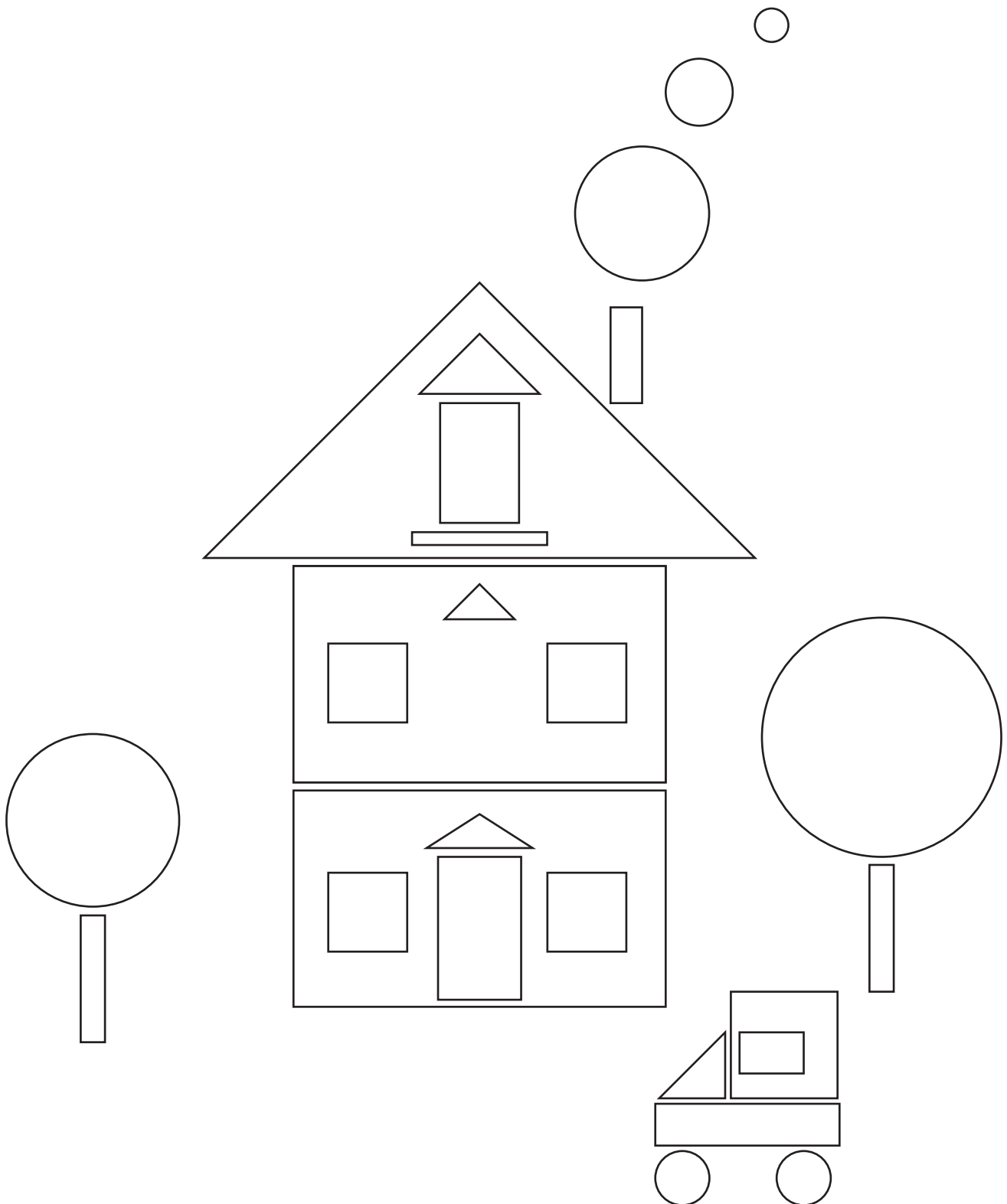


—

=

.....

Colorie les carrés en vert, les rectangles en jaune, les triangles en gris et les cercles en bleu :



Matériel à découper :

